

Time: 10 Minutes Paper Math 2 (T1) Total Marks: 10


1st Month, 1st Week, 1st Day	Syllabus: Ordinal Numbers (Page No.1)
------------------------------	---------------------------------------

☆ Solve all questions.

تمام سوالات حل کریں۔


Q.No.1. Write the position of the following boys. (3)

درج ذیل میں تصویر میں لڑکوں کو پوزیشن لکھیں۔



Q.No.2. Write the position of the following bees. (3)

درج ذیل میں شہد کی مکھیوں کی پوزیشن لکھیں۔



Q.No.3. Write the missing ordinal numbers. (4)

درج ذیل میں نامعلوم ترتیبی اعداد لکھیں۔

1st			5th
6th		8th	

Time: 10 Minutes Paper Math 2 (T1) Total Marks: 10


1st Month, 1st Week, 1st Day	Syllabus: Ordinal Numbers (Page No.1)
------------------------------	---------------------------------------

☆ Solve all questions.

تمام سوالات حل کریں۔


Q.No.1. Write the position of the following boys. (3)

درج ذیل میں تصویر میں لڑکوں کو پوزیشن لکھیں۔



Q.No.2. Write the position of the following bees. (3)

درج ذیل میں شہد کی مکھیوں کی پوزیشن لکھیں۔



Q.No.3. Write the missing ordinal numbers. (4)

درج ذیل میں نامعلوم ترتیبی اعداد لکھیں۔

1st			5th
6th		8th	